



INSPECTORATUL
ȘCOLAR JUDEȚEAN
CONSTANȚA



MINISTERUL
EDUCAȚIEI
NAȚIONALE

Concursului Județean de Cultură Generală

„Amicii isteți”

Ediția a IV-a

ETAPA JUDEȚEANĂ - 19 MAI 2018

CLASA PREGĂTITOARE

- ❖ Toate subiectele sunt obligatorii!
- ❖ Durata probei: 60 minute
- ❖ Se acordă 10 puncte din oficiu!

Numele _____

Prenumele _____

Școala _____

Profesor _____

Supraveghetor

1. _____

2. _____

PARTEA I

SALUT, AMICI ISTEȚI!

1. LUNA MAI ESTE ULTIMA LUNĂ DIN ANOTIMPUL... ÎNCERCUIEȘTE RĂSPUNSUL CORECT.



a. PRIMĂVARĂ



b. VARĂ



c. IARNĂ



d. TOAMNĂ


2. MAMA VITREGĂ ÎI OFERĂ ALBEI CA ZĂPADA..... ÎNCERCUIEȘTE RĂSPUNSUL CORECT.

a.	O AGRAFĂ, O CUREA , UN MĂR
b.	UN PIEPTENE , O AGRAFĂ, O PARĂ;


c.	O CUREA , UN PIEPTENE, O PARĂ;
d.	O CUREA , UN PIEPTENE, UN MĂR;

3.CARE CUVÂNT COMPLETEAZĂ PROPOZIȚIA? ÎNCERCUIEȘTE RĂSPUNSUL CORECT.

NOAPTEA APARȘI LUNA.



a. CURCUBEUL



b. SOARELE



c. STELELE





d. RĂSĂRITUL

SUBIECTUL II

1. ORDONEAZĂ SILABELE PENTRU A FORMA CUVINTE ȘI SCRIE-LE ÎN SPAȚIUL ALĂTURAT:

ȚĂ, MI, NEA, DI	
LĂ, CĂ, MI	
E, RI, SE, ME	
LOA, CU, RE	
TEȚ, IS	

2. ADAUGĂ LITERELE LIPSĂ ȘI VEI DESCOPERI NUME DE FLORI.



.....RIN	BU.....OR	TRA.....DAFIR	ZAM.....ILĂ	N.....RCISĂ
----------	-----------	---------------	-------------	-------------

3. MIHAI ȘI COLEGII SĂI AU PLECAT ÎN EXCURSIE. PRIVEȘTE CU ATENȚIE IMAGINEA , APOI NOTEAZĂ PROPOZIȚIILE DE MAI JOS CU „A”(ADEVĂRAT) SAU „F”(FALS);



ÎN IMAGINE SUNT 6 COPII.	
SUNT 6 RUCSACURI.	
BĂIEȚII SUNT MAI MULȚI DECÂT FETELE.	
UN COPIL NU ARE RUCSAC.	
DACĂ AR PLECA 2 BĂIEȚI NUMĂRUL LOR AR FI EGAL CU AL FETELOR.	



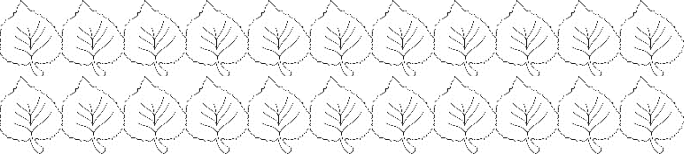


4. SCRIE ZILELE DIN SĂPTĂMÂNĂ CARE LIPSESC!

....., **MARȚI**,, **JOI**,, **SÂMBĂȚĂ**,

5. ORDONEAZĂ DESCRESCĂTOR NUMERELE. SCRIE APOI LITERELE ȘI DESCOPERĂ NUMELE PRIMEI LUNI DE VARĂ.

22	31	27	12	17
N	I	U	E	I

6. ADAUGĂ SAU ELIMINĂ ÎN FUNCȚIE DE OPERAȚIA DATĂ, APOI REZOLVĂ.

	$15 + 3 =$
	$24 - 4 =$
	$22 + 4 =$
	$16 - 5 =$
	$20 + 9 =$

BRAVO! AI REUȘIT!