

Numele și prenumele elevului:

Cadrul didactic:

Școala de proveniență:

Concursului Județean de Cultură Generală

„Amicii isteți”

Ediția a IV-a

ETAPA LOCALĂ - 21 APRILIE 2018

CLASA PREGĂTITOARE

- ❖ Toate subiectele sunt obligatorii!
- ❖ Durata probei: 60 minute
- ❖ Se acordă 10 puncte din oficiu!

PARTEA I

ZÂNA PRIMĂVARA A SOSIT! EA VA ORGANIZA O MARE PETRECERE. SCUFIȚA ROȘIE ȘI MOTANUL ÎNCĂLȚAT VOR PUTEA MERGE LA PETRECERE DOAR DACĂ REZOLVĂ EXERCIȚIILE. SĂ ÎI AJUTĂM!

SCUFIȚA ROȘIE AFLĂ DIN POEZIA „DE PE-O BUNĂ DIMINEAȚĂ” CĂ:

1. PE UN FIR DE PĂPĂDIE SE URCA:


a)



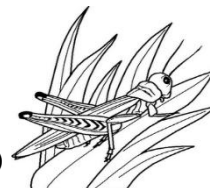
b)



c)



d)



2. INSECTA AVEA O HAINĂ DE CULOARE:

a) ROȘIE

b) AURIE

c) MARONIE

d) NEAGRĂ

3. VIETATEA A ANUNȚAT VENIREA ANOTIMPULUI:

a)



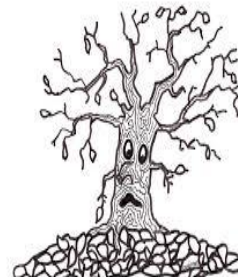
b)



c)



d)



4. LA O MASĂ S-AU AȘEZAT:VIOREAUA, LALEAUA, ZAMBILA, LILIACUL. LALEAUA STĂ ÎNTRE VIOREA ȘI ZAMBILĂ. ÎN STÂNGA VIORELEI STĂ LILIACUL. CARE SUNT VECINII VIORELEI ?

- a) VIOREAUA ȘI LALEAUA b) LILIACUL ȘI LALEAUA
c) VIOREAUA ȘI LILIACUL d) LALEAUA ȘI ZAMBILA

5. MOTANUL ÎNCĂLȚAT TREBUIE SĂ GĂSEASCĂ CĂSUȚA UNDE SUNT PUSE ORNAMENTELE PENTRU SALA BALULUI. PENTRU ACEASTA PORNEȘTE DE LA CĂSUȚA 22, SARE 4 CĂSUȚE SPRE STÂNGA, APOI 6 SPRE DREAPTA. ORNAMENTELE SUNT ÎN CĂSUȚA CU NUMĂRUL....



- a) 19 ; b) 18; c) 28 ; d) 24 .

6. LA BAL VA FI ȘI O PARADĂ DE LEI. EI VOR INTRA PE SCENĂ ÎN ORDINE DESCRESCĂTOARE. ÎNCERCUIEȘTE VARIANTA CORECTĂ.



2



11



17



14



13



19

- a) 20, 19, 17, 11, 13, 14; c) 11, 13, 14, 17, 19, 20;
b) 20, 19, 17, 14, 13, 11; d) 20, 19, 14, 17, 13, 11;

7. PENTRU PREGĂTIREA SUPEI S-AU FOLOSIT LEGUME:

2	4	10	1	3

NUMĂRUL DE LEGUME FOLOSITE ESTE:

- a) 7 ; b) 20 ; c) 17; d) 19.

8. LUPUL SE GÂNDEȘTE: DACĂ IERI A FOST VINERI ȘI BALUL VA FI MÂINE, ÎN CE ZI A SĂPTĂMÂNII VOI MERGE LA PETRECERE?

a) LUNI ;

b) SÂMBĂTĂ;

c) VINERI;

d) DUMINICĂ.

PARTEA II

1. SCUFIȚA ROȘIE PREGĂTEȘTE PENTRU INVITAȚI O SALATĂ DE FRUCTE. PENTRU ASTA, EA TREBUIE SĂ DESCOPERE ÎN ȘIRURILE DE LITERE NUME DE FRUCTE. ÎNCERCUIEȘTE NUMELE FRUCTELOR PE CARE LE-AI DESCOPERIT!

a) MPEREODA

b) BAMUREVOI

c) CINGUTUIESC

d) TUCAISEO

2. LUPUL VREA SĂ AFLE INFORMAȚII DESPRE BAL. ARANJÂND SILABELE VA AFLA CE ÎL INTERESEAZĂ. SCRIE PE LINIE CUVINTELE FORMATE!

a) COL, SPEC, TA; _____

b) CON, CURS; _____

c) TAT, VI, IN; _____






d) SĂ, MA; _____

e) E, TENI, PRI; _____

3. TOȚI INVITAȚII LA BAL TREBUIE SĂ RESPECTE CÂTEVA REGULI ÎN TIMPUL SPECTACOLULUI. ALEGE REGULILE POTRIVITE PUNÂND „A”(ADEVĂRAT) SAU „F”(FALS).

- SĂ DERANJEZE PERSOANELE DIN JUR. _____
- SĂ FIE ATENȚI LA SPECTACOL. _____
- SĂ PĂSTREZE LINIȘTEA. _____
- SĂ SE JOACE PE TELEFON. _____
- SĂ MĂNÂNCE ÎN TIMPUL SPECTACOLULUI. _____





4. MOTANUL VREA SĂ IDENTIFICE POZIȚIA FLORILOR DIN SALĂ. AJUTĂ-L! SCRIE ÎN DREPTUL FLORILOR POZIȚIA FIECĂREIA DIN TABEL.

	A	B	C	D	E
1					
2					
3					
4					
5					



5. PE MESE SUNT AȘEZATE FRUCTE. COMPLETEAZĂ TABELUL ȘTIIND CĂ:

- NUMĂRUL CĂPȘUNILOR REPREZINTĂ VECINUL MAI MIC AL NUMĂRULUI 17.
- NUMĂRUL CIREȘELOR REPREZINTĂ SUMA VECINILOR LUI 9.
- NUMĂRUL PERELOR ESTE CU 3 MAI MIC DECÂT NUMĂRUL CĂPȘUNILOR.
- NUMĂRUL PIERSICILOR REPREZINTĂ SUMA NUMERELOR PARE MAI MICI DECÂT 6.

BRAVO! AI REUȘIT!